






Para evaluar la actividad:

Marca con una equis "X" en la alternativa de respuesta que consideres, según la pregunta.

¿La actividad desarrollada me permite ampliar mis conocimientos en salud?		
¿Lo aprendido me permite revisar y mejorar mi estilo de vida?		
¿Me agradó lo que aprendí?		



Al terminar esta actividad yo podré:
Identificar las medidas de dispersión en el análisis
de datos estadísticos sobre derechos en la
salud del trabajador.

actividad Grafisalud

Grafisalud





1. Con los siguientes datos estadísticos de accidentes de trabajo reportados desde el año 2000 – 2005, encuentra la varianza. Debes tener presente la forma de cálculo de la misma.

Accidentes de trabajo	Años
71.252	2000
68.854	2001
66.163	2002
63.288	2003
58.520	2004
59.720	2005

2. ¿Qué conclusiones puedes sacar de los anteriores datos estadísticos?

Para evaluar la actividad:

Marca con una equis "X" en la alternativa de respuesta que consideres, según la pregunta.

¿La actividad desarrollada me permite ampliar mis conocimientos en salud?		
¿Lo aprendido me permite revisar y mejorar mi estilo de vida?		
¿Me agradó lo que aprendí?	